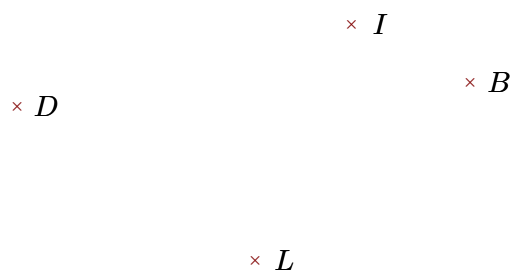



Exercice 1

Réaliser les figures suivantes :




- ▶1. Tracer la droite perpendiculaire à la droite (DB) passant par L
- ▶2. Tracer la droite parallèle à la droite (IB) passant par D



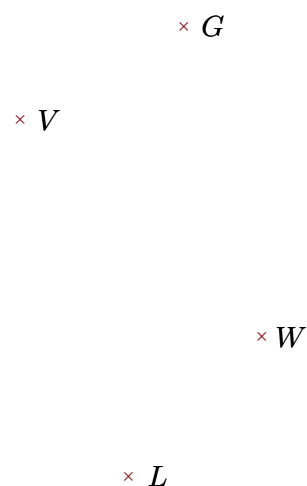
- ▶1. Tracer la droite perpendiculaire à la droite (FG) passant par W
- ▶2. Tracer la droite parallèle à la droite (GW) passant par F

Exercice 2

Réaliser les figures suivantes :



- ▶1. Tracer la droite perpendiculaire à la droite (WB) passant par F
- ▶2. Tracer la droite parallèle à la droite (HW) passant par B



- ▶1. Tracer la droite parallèle à la droite (LW) passant par G
- ▶2. Tracer la droite perpendiculaire à la droite (VG) passant par L