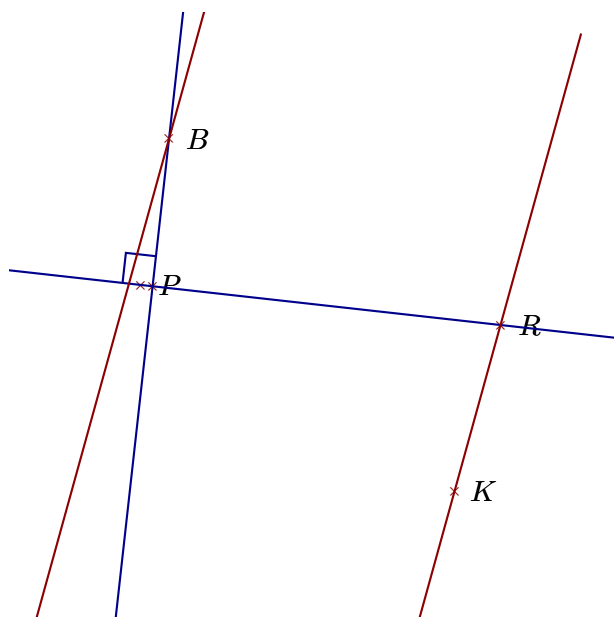
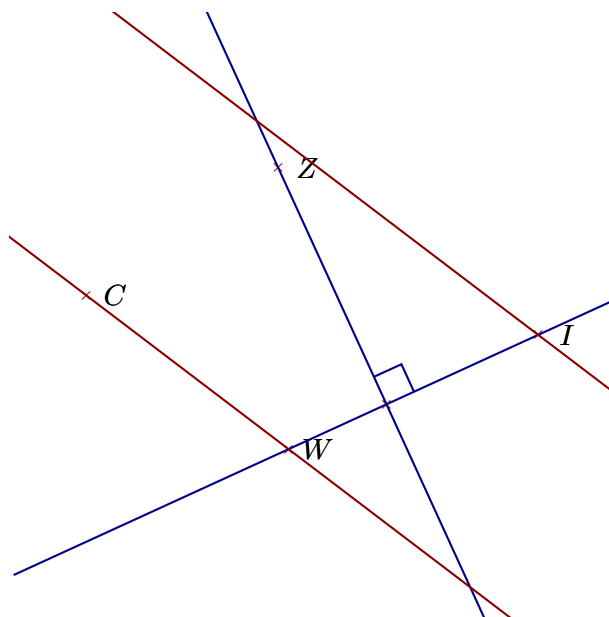


### Corrigé de l'exercice 1

Réaliser les figures suivantes :



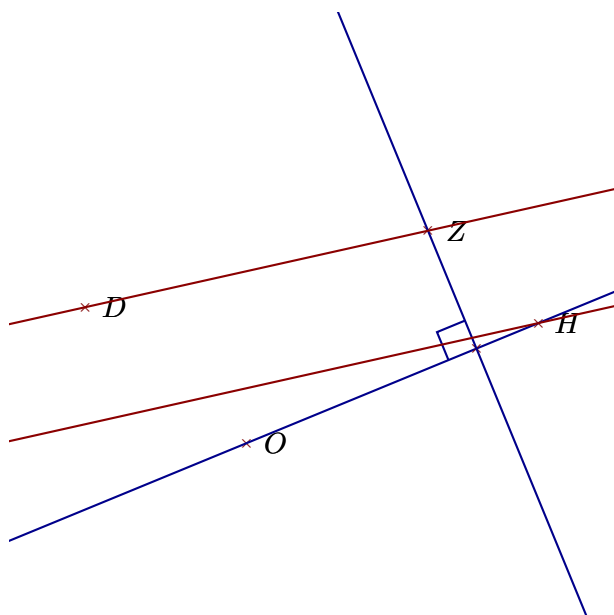
- 1. Tracer la droite perpendiculaire à la droite  $(PR)$  passant par  $B$
- 2. Tracer la droite parallèle à la droite  $(KR)$  passant par  $B$



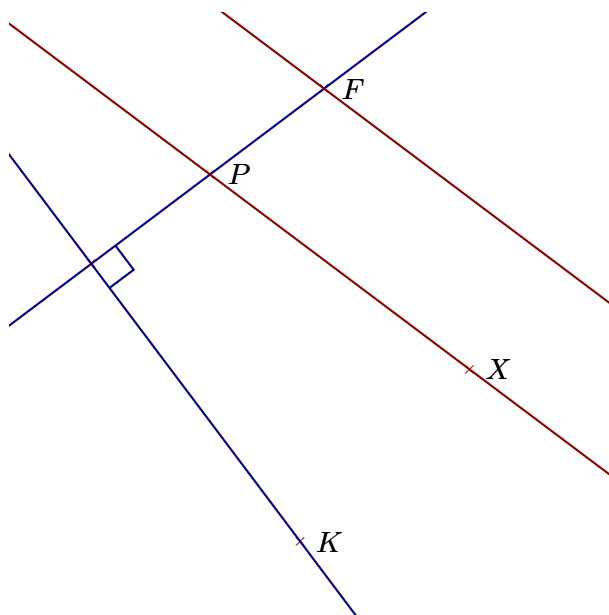
- 1. Tracer la droite parallèle à la droite  $(WC)$  passant par  $I$
- 2. Tracer la droite perpendiculaire à la droite  $(IW)$  passant par  $Z$

### Corrigé de l'exercice 2

Réaliser les figures suivantes :



- 1. Tracer la droite perpendiculaire à la droite  $(OH)$  passant par  $Z$
- 2. Tracer la droite parallèle à la droite  $(ZD)$  passant par  $H$



- 1. Tracer la droite parallèle à la droite  $(PX)$  passant par  $F$
- 2. Tracer la droite perpendiculaire à la droite  $(FP)$  passant par  $K$