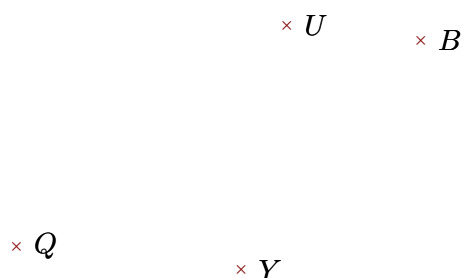


Exercice 1

Réaliser les figures suivantes :




- 1. Tracer la droite perpendiculaire à la droite (QU) passant par Y
- 2. Tracer la droite parallèle à la droite (QY) passant par B



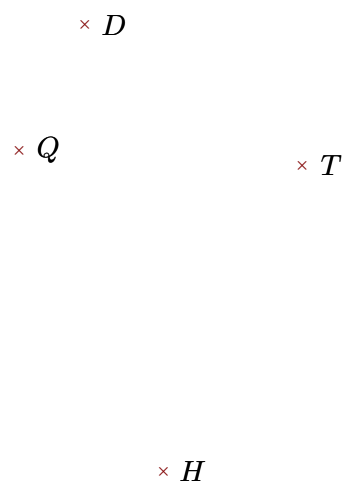
- 1. Tracer la droite perpendiculaire à la droite (WI) passant par L
- 2. Tracer la droite parallèle à la droite (IQ) passant par L

Exercice 2

Réaliser les figures suivantes :



- 1. Tracer la droite parallèle à la droite (JQ) passant par E
- 2. Tracer la droite perpendiculaire à la droite (JE) passant par Q



- 1. Tracer la droite perpendiculaire à la droite (TH) passant par Q
- 2. Tracer la droite parallèle à la droite (QH) passant par T