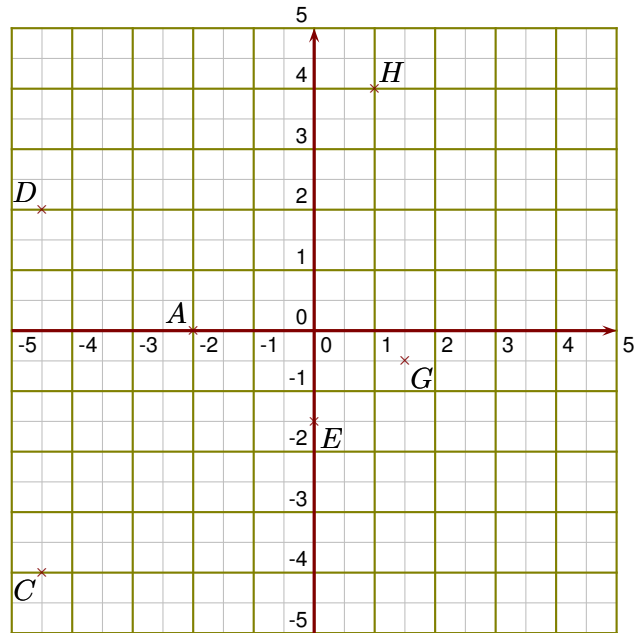
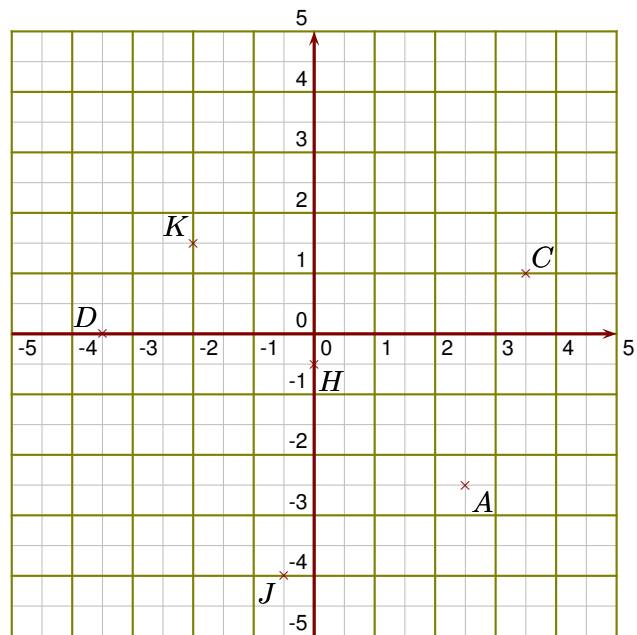


Exercice 1

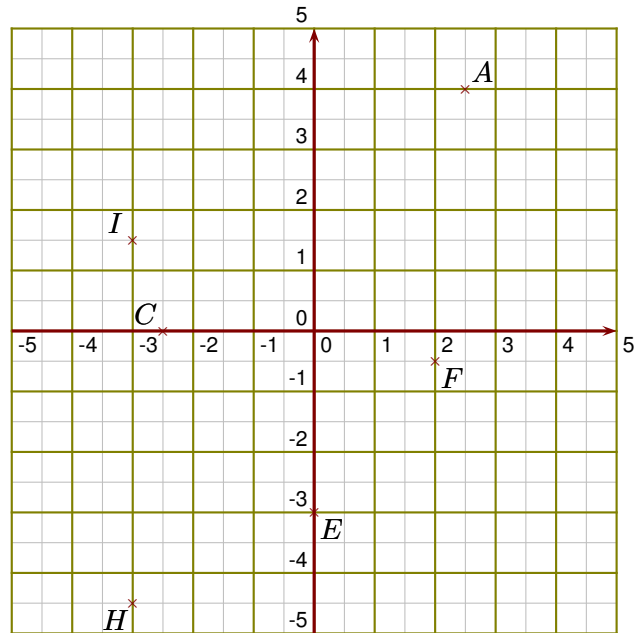
- 1. Donner les coordonnées des points A, C, D, E, G et H.
- 2. Placer dans le repère les points I, T, U, V, W et X de coordonnées respectives $(0 ; 3,5)$, $(4,5 ; -1)$, $(-4,5 ; 0)$, $(4 ; 0,5)$, $(-1 ; 3)$ et $(-3,5 ; -4,5)$.
- 3. Placer dans le repère le point Y d'abscisse 4,5 et d'ordonnée -2

**Exercice 2**

- 1. Donner les coordonnées des points A, C, D, H, J et K.
- 2. Placer dans le repère les points P, Q, R, S, U et V de coordonnées respectives $(0 ; 3)$, $(1,5 ; 0)$, $(2,5 ; 4)$, $(2,5 ; -0,5)$, $(-3,5 ; -2,5)$ et $(-1,5 ; 2,5)$.
- 3. Placer dans le repère le point X d'abscisse 1 et d'ordonnée -2

**Exercice 3**

- 1. Donner les coordonnées des points A, C, E, F, H et I.
- 2. Placer dans le repère les points K, L, N, R, S et T de coordonnées respectives $(3 ; 0)$, $(0 ; 4,5)$, $(-4,5 ; -2)$, $(0,5 ; -1,5)$, $(-4,5 ; 2,5)$ et $(1,5 ; 0,5)$.
- 3. Placer dans le repère le point Z d'ordonnée 0 et d'abscisse 4,5



Exercice 4

- 1. Donner les coordonnées des points A, D, I, K, L et N.
- 2. Placer dans le repère les points P, R, T, U, V et W de coordonnées respectives $(4,5 ; -1)$, $(2 ; 0)$, $(1,5 ; 2,5)$, $(0 ; 0)$, $(-4 ; -4)$ et $(-4,5 ; 4)$.
- 3. Placer dans le repère le point Y d'ordonnée 0,5 et d'abscisse 4,5

